


Nombre:

5 AÑOS

PRACTICANDO APRENDEMOS



Completa la serie:

	12								20
--	----	--	--	--	--	--	--	--	----

		13						19	
--	--	----	--	--	--	--	--	----	--

11									20
----	--	--	--	--	--	--	--	--	----

Antes y después de:

13	
----	--

19	
----	--

11	
----	--

15	
----	--

18	
----	--

16	
----	--

	13
--	----

	20
--	----

	18
--	----

	15
--	----

	17
--	----

	14
--	----

Nombre:

5
AÑOS

ESCRIBE LOS NÚMEROS DEL 1 AL 20

--	--	--	--	--	--	--	--	--	--

--	--	--	--	--	--	--	--	--	--

- Completa los números que faltan

1		3		5		7			10
---	--	---	--	---	--	---	--	--	----

	12			15			18		20
--	----	--	--	----	--	--	----	--	----

Resuelve:

$18 + 5 = \square$

$15 + 5 = \square$

$20 + 6 = \square$

$18 + 7 = \square$

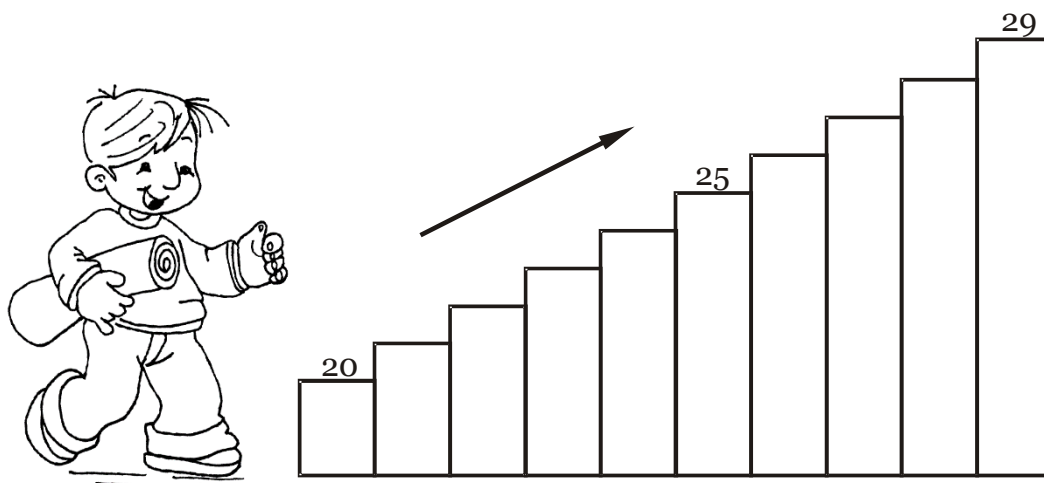
$23 + 5 = \square$

$27 + 3 = \square$


Nombre: _____

5
AÑOS

ASCENDENTES DEL 20 AL 29



COLOCA EL NÚMERO ANTERIOR Y POSTERIOR




- ___ 10 ___
- ___ 14 ___
- ___ 23 ___
- ___ 27 ___
- ___ 32 ___
- ___ 39 ___
- ___ 19 ___
- ___ 25 ___
- ___ 36 ___

Nombre:

5
AÑOS

COLOCA EL NÚMERO
ANTERIOR Y POSTERIOR



_____ 39 _____ _____ 47 _____

_____ 42 _____ _____ 41 _____

_____ 46 _____ _____ 43 _____

_____ 36 _____ _____ 42 _____

_____ 48 _____ _____ 46 _____

_____ 49 _____ _____ 44 _____