



Nombre:

5  
AÑOS

RECONOCE EL NÚMERO 30



30										
----	--	--	--	--	--	--	--	--	--	--

30										
----	--	--	--	--	--	--	--	--	--	--

30										
----	--	--	--	--	--	--	--	--	--	--

30										
----	--	--	--	--	--	--	--	--	--	--

30										
----	--	--	--	--	--	--	--	--	--	--

Nombre:

5  
AÑOS

FAMILIA DEL 30



$$\begin{array}{r} + 1 \\ \hline \end{array} \bigcirc$$

$$\begin{array}{r} + 1 \\ \hline \end{array} \bigcirc$$

$$\begin{array}{r} + 1 \\ \hline \end{array} \bigcirc$$

$$\begin{array}{r} + 1 \\ \hline \end{array} \bigcirc$$

$$\begin{array}{r} + 1 \\ \hline \end{array} \bigcirc$$

$$\begin{array}{r} + 1 \\ \hline \end{array} \bigcirc$$

$$\begin{array}{r} + 1 \\ \hline \end{array} \bigcirc$$

$$\begin{array}{r} + 1 \\ \hline \end{array} \bigcirc$$

$$\begin{array}{r} + 1 \\ \hline \end{array} \bigcirc$$

30										
----	--	--	--	--	--	--	--	--	--	--

30										
----	--	--	--	--	--	--	--	--	--	--

30										
----	--	--	--	--	--	--	--	--	--	--

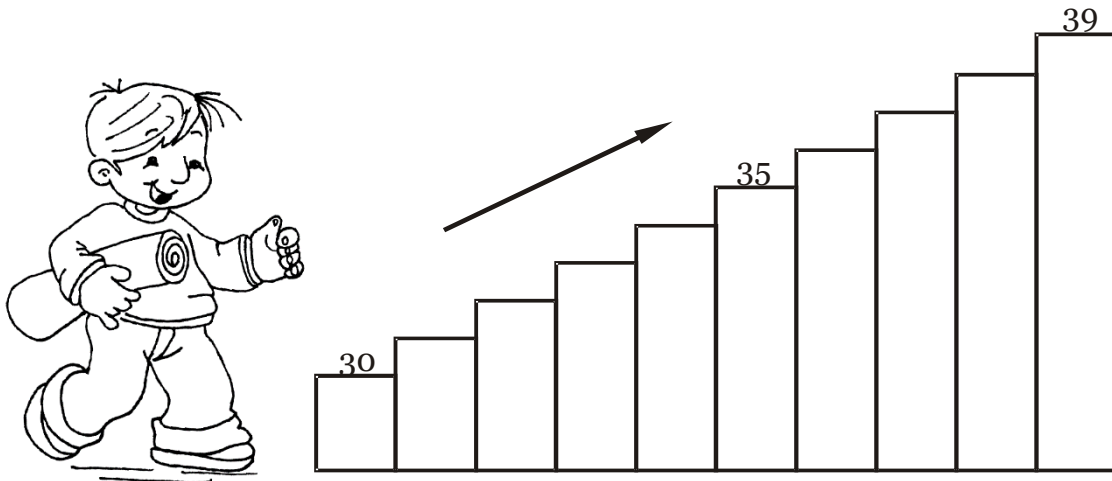
30										
----	--	--	--	--	--	--	--	--	--	--

30										
----	--	--	--	--	--	--	--	--	--	--

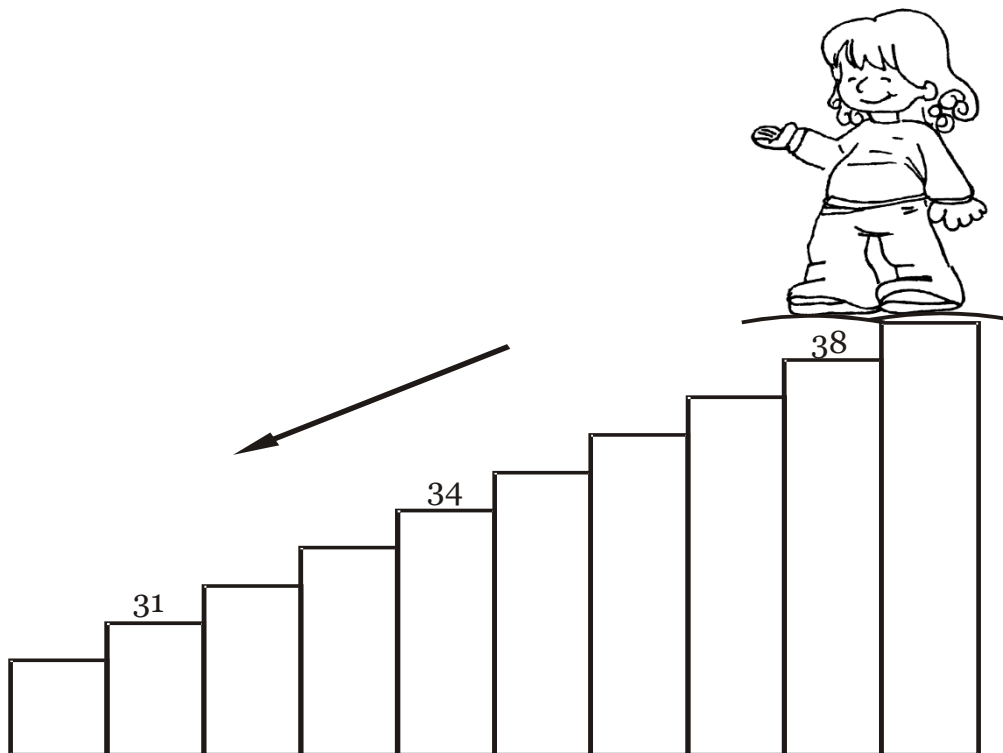
**Nombre:**

**5  
AÑOS**

**UNA ESCALERA DE NÚMEROS ASCENDENTES DEL 30 AL 39**




**UNA ESCALERA DE NÚMEROS DESCENDENTES DEL 39 AL 30**



Nombre:

5  
AÑOS

RECORDANDO NÚMEROS DEL 1 AL 30



COMPLETA LOS NÚMEROS QUE FALTAN

1			4			7			10
	12			15			18		
21		23			26			29	

RESUELVE

$30 + 3 = \square$

$30 + 8 = \square$

$30 + 5 = \square$

$14 + 7 = \square$

$28 + 4 = \square$

$30 + 9 = \square$

$26 + 5 = \square$

$20 + 8 = \square$